

## Демонстрационная версия

Промежуточная аттестация проводится с целью оценки уровня освоения материала за курс 1 класса и проводится в форме теста. Тест составлен в двух вариантах. Каждый вариант состоит из двух частей и включает в себя 16 заданий.

Часть 1 содержит 12 заданий с кратким ответом.

В тесте предложены задания на выбор и запись одного правильного ответа из предложенного перечня ответов.

Часть 2 содержит 4 задания со свободным ответом.

Варианты теста равноценны по трудности, одинаковы по структуре, параллельны по расположению заданий: под одними тем же порядковым номером во всех вариантах работы находятся задания, проверяющие одни и те же элементы содержания и элементы планируемых результатов.

На выполнение экзаменационной работы отводится 40 минут.

За верное выполнение каждого задания части 1 экзаменуемый получает по 1 баллу. За неверный ответ или его отсутствие выставляется 0 баллов.

Максимальное количество баллов, которое может получить экзаменуемый, правильно выполнивший часть 1 – 12.

За верное выполнение каждого задания части 2 экзаменуемый получает по 2 балла. Если при выполнении каждого задания части 2 экзаменуемый допустил 1 ошибку получает 1 балл за задание. Если испытуемый допустил 2 и более ошибок или не выполнил задание выставляется 0 баллов.

Максимальное количество баллов, которое может получить экзаменуемый, правильно выполнивший задание части 2 – 8.

За верное выполнение всех заданий экзаменационной работы можно получить максимально 20 баллов.

## Промежуточная аттестационная работа по шахматам за курс 3 класса

### Часть 1

1. Кто сейчас является чемпионом мира по шахматам:
  1. Магнус Карлсен
  2. Анатолий Карпов
  3. Вишванатан Ананд
  4. Гарри Каспаров
2. Сколько всего диагоналей на шахматной доске:
  1. 13
  2. 9
  3. 26
  4. 32
3. Двойной удар можно назвать:
  1. Грабли
  2. Вилка
  3. Рогатка
  4. Развилка
4. Нападение слона на фигуру или пешку противника, прикрывающую короля, это:
  1. двойной удар,
  2. связка
  3. жертва
  4. открытый шах
5. Последняя стадия шахматной партии называется
  1. миттельшпиль
  2. начальная позиция
  3. дебют
  4. эндшпиль
5. Мат конем, при котором собственные фигуры не дают королю уйти от нападения
  1. Бутербродный мат
  2. Батарейный мат
  3. Спёртый мат
  4. Мат двумя ладьями
6. В начале партии надо позаботиться
  1. о развитии фигур и рокировке
  2. об атаке и мате
  3. о защите своего короля и фигур
  4. о тактических приемах
7. Чтобы атаковать короля соперника надо
  1. Двигать свои пешки в сторону короля соперника
  2. Защитить своего короля
  3. Разменять ферзей
  4. Предложить сопернику ничью
8. Пешка, на пути которой к полю превращения нет пешек соперника называется
  1. Отсталой
  2. Изолированной

3. Проходной

4. Слабой

9. Король может догнать проходную пешку соперника, если он


1. Уйдёт далеко от пешки соперника

2. Попадёт в квадрат короля соперника

3. Встанет сзади пешки

4. Попадёт в квадрат пешки

10. На каком поле нужно поставить белого ферзя, чтобы он защитил все 3 белые пешки.



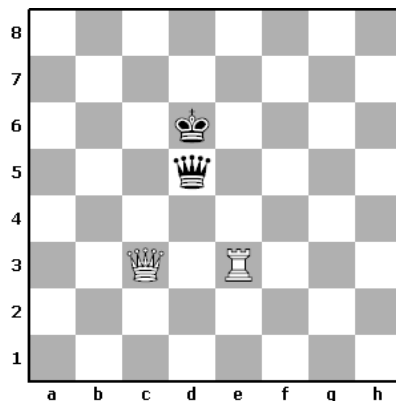
1. g7

2. c7

3. a2

4. f2

11. Тебе удалось, играя чёрными, объявить белому королю мат. Но тут белый король вдруг исчез с доски. На каком поле он стоял?



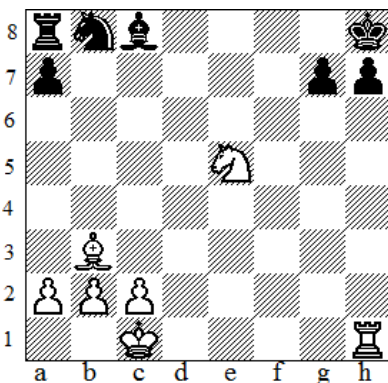
1. Kpd2

2. Kpd4

3. Kpc5

4. Kpe6

12. В этой позиции мат черному королю можно объявить ходом



1. Kf6

2. Kg6

3. Kf7

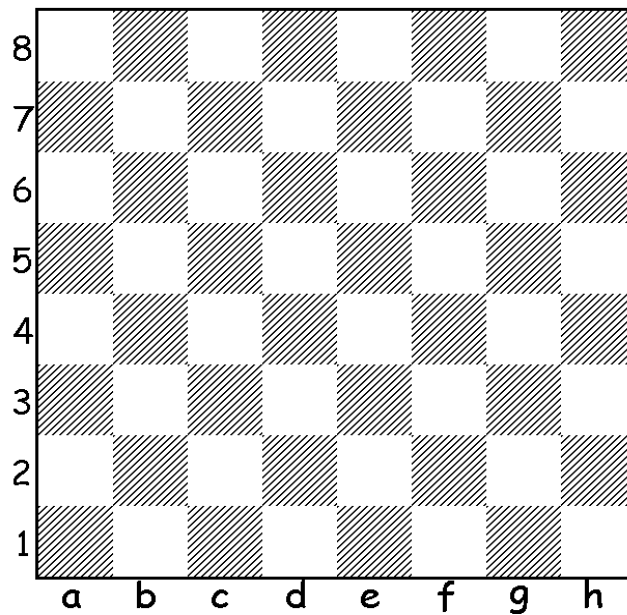
4. Lh7

Часть 2

13. Допиши предложения:

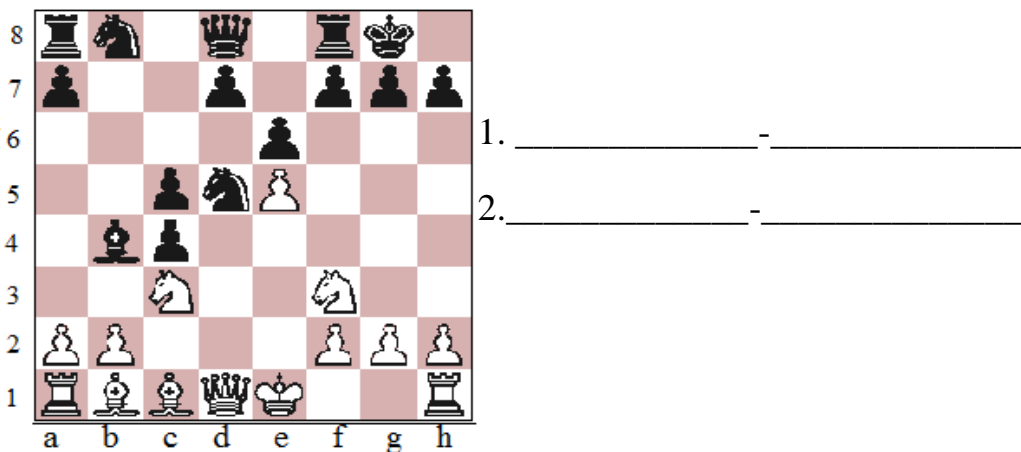
Если ход сделан, но король остался под шахом, то такой ход называется

Тронул фигуру - \_\_\_\_\_



14. На диаграмме нарисуй позицию:  
Белые: Кр а4, пешка f4  
Чёрные: Кр а6  
И ответь на вопрос: сможет белая пешка стать ферзём? \_\_\_\_\_

15. Как белым атаковать черного короля? Запиши два хода за белых и за черных.



16. Белые начинают и объявляют мат в 2 хода



1. \_\_\_\_\_ - \_\_\_\_\_

2. \_\_\_\_\_ - \_\_\_\_\_

# Ключи к тесту

№ задания	
Часть 1	
1	1
2	3
3	2
4	2
5	4
6	1
7	1
8	3
9	4
10	3
11	2
12	2
Часть 2	
13	Невозможный ход; ходи.
14	 <p>Да, если будет ход белых.</p>
15	1. Ch7 — Kph7 2. Kg5
16	1. Фh5 — g6 2. Фg6