


Промежуточная аттестация по технологии 3 класс
Демоверсия
Часть 1

1. Установите правильную последовательность выполнения изделия в технике аппликации и составь план.

- А) разметить детали по шаблону
- Б) составить композицию
- В) вырезать детали
- Г) наклеить на фон


2. Выбери природные материалы для изготовления изделий.



Ответ: _____

3. Перед вами правила безопасной работы с одним из часто используемых в работе инструментов, назовите его:

- Этот инструмент нужно передавать своему товарищу, держа его за лезвия;
- Во время работы с ним нельзя отвлекаться и размахивать им;
- На столе этот инструмент должен лежать с сомкнутыми лезвиями.



3)

Ответ: _____

4. Главная часть компьютера – это...

- А) монитор
- Б) системный блок
- В) клавиатура

5. Перечислите профессии людей, занятых в «Ателье мод».

6. Каждой швейной строчке подбери ее название. Соедини стрелками.

Крестик

//////////

Косая строчка

XXXXXXXXXX

Прямая строчка

7. При работе за компьютером делай перерыв:

- а) через каждый час;
- б) через каждые 15 минут;
- в) через каждые 5 минут.

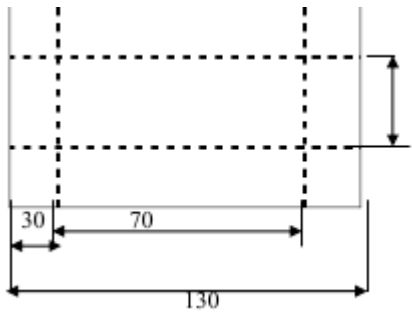
8. Как называется изображение детали или изделия на листе бумаги с обозначением всех необходимых для его изготовления размеров?

- а) технический рисунок;
- б) эскиз;
- в) чертёж.

Часть 2

Инструкционная карта

1. Рассмотрите чертёж развёртки коробки.
2. Выполни развёртку коробки на бумаге или картоне.
3. Вырежи развёртку. Выполни рיצовку. Аккуратно сложи развёртку по линиям сгиба.
4. Собери и склей коробку.



3.1.1